

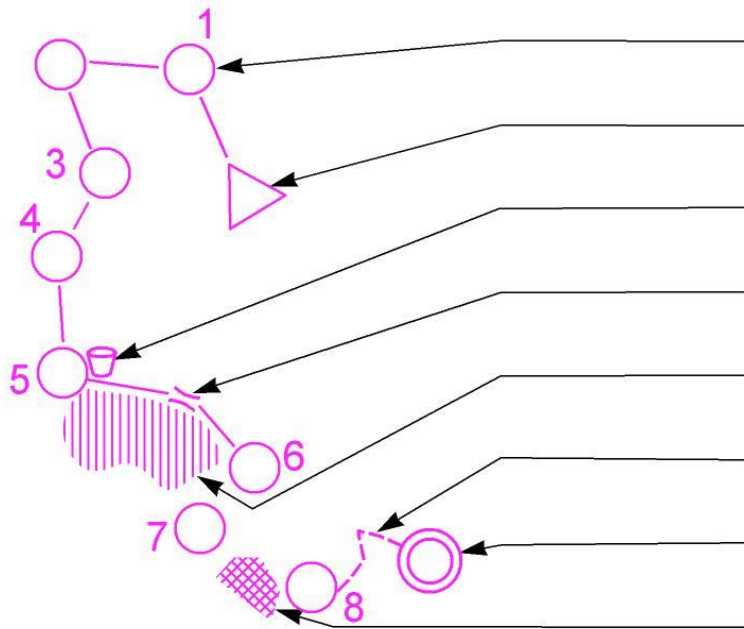


BALISE BLEUE

Direction Technique Nationale

1. Le circuit est imprimé sur la carte en couleur violette. Cite les différents symboles en violette du circuit indiqué par les flèches. Ecris ta réponse sur la flèche qui indique le symbole. (2 points)

pts



2. Dessine et donne la signification de 2 symboles de couleur marron ou bistre (1point)

pts


SYMBOLE 1 : SYMBOLE 2 :

3. Que représente ce symbole ? (1 points)

pts

	<input type="checkbox"/> Verger <input type="checkbox"/> Vigne <input type="checkbox"/> Champ cultivé
--	---

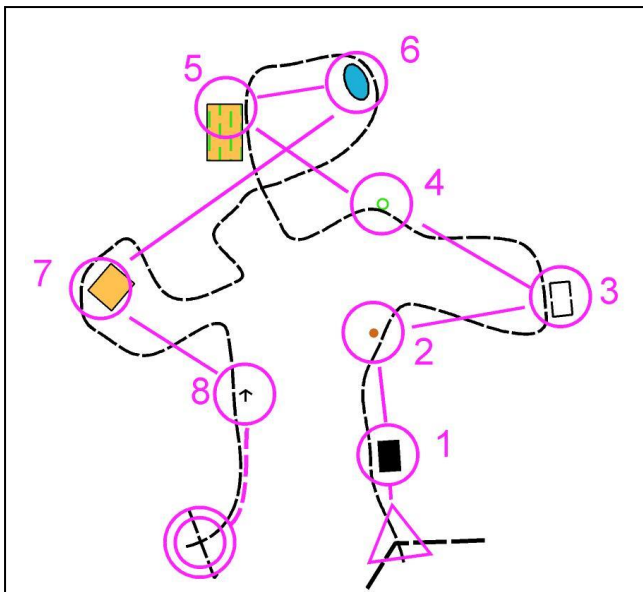
4. Donne la définition de ce poste de contrôle : (1 point)



pts

5. Pour effectuer ce parcours, tu passes à différents postes qui sont situés soit à droite soit à gauche du chemin. Suivant que ces postes se situent à gauche ou à droite du chemin, classe les dans la bonne colonne et donnes leur signification (2 points)

pts

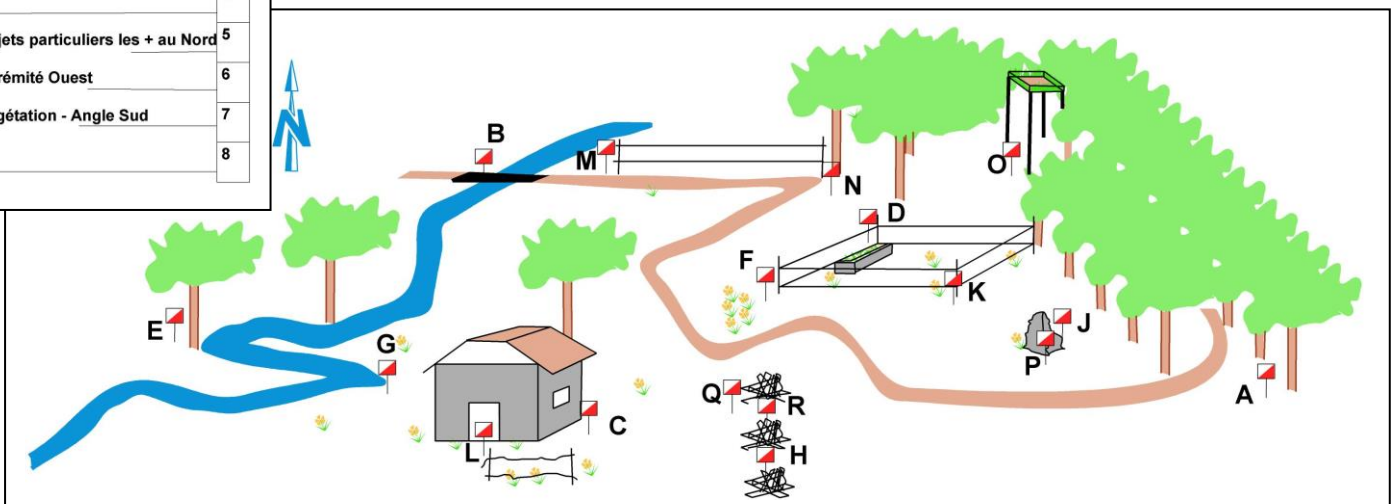


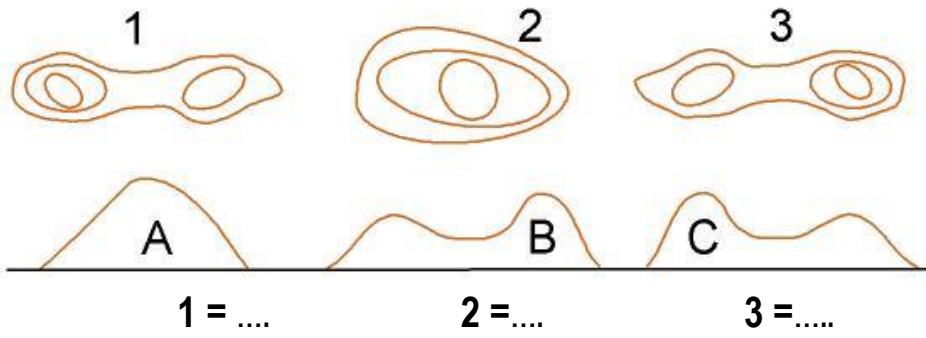
DEFINITIONS ELEMENTS A GAUCHE	DEFINITIONS ELEMENTS A DROITE

6. Trouve la balise correspondant à la bonne définition (Reporte la lettre de la balise dans la case de la définition) (2 points)

pts

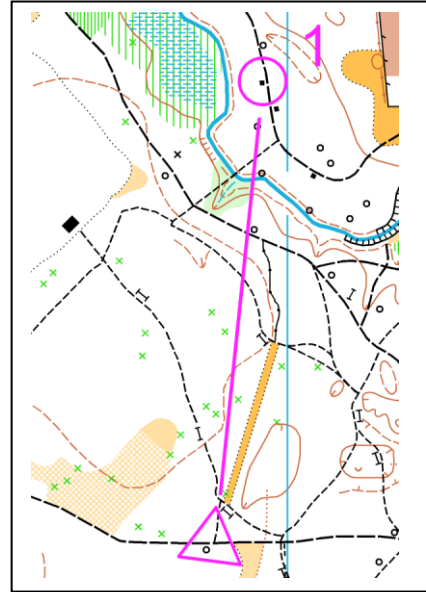
Rocher - côté Sud	1
Pont	2
Maison - côté Est	3
Tour	4
Entre les Objets particuliers les + au Nord	5
Clôture - extrémité Ouest	6
Limite de végétation - Angle Sud	7
Arbre isolé	8





pts




8. Trace sur la carte ci-dessous le meilleur itinéraire pour aller du départ au poste 1. (1 point)



pts

9. Quel paysage correspond au plan? Indiquez votre réponse en joignant par un trait le paysage au plan correspondant. (1 points)

pts



•

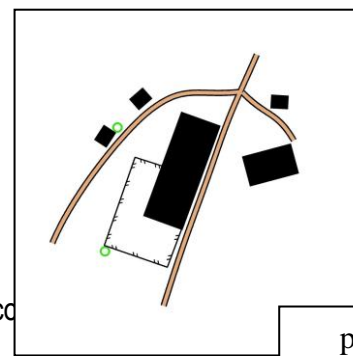
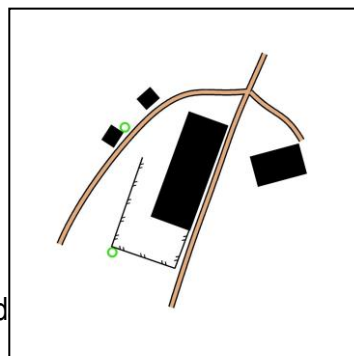
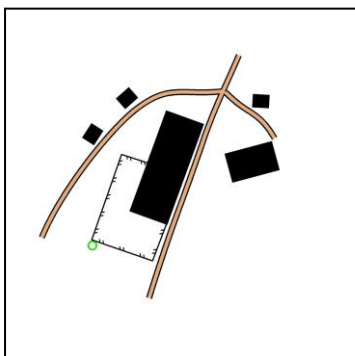
•

•

•

•

•



correspond

bonne sa co

pts

MANGEOIRE Couleur :.....	MUR FRANCHISSABLE Couleur :.....	VIGNE Couleur :.....	PETITE DEPRESSION Couleur :.....
-----------------------------	--	-------------------------	--

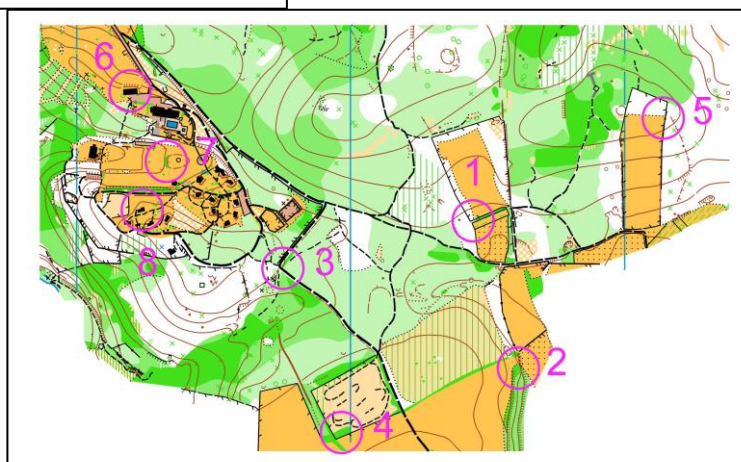
11. Quel coureur a juste ? Coche la ou les bonnes réponses (1 point)

- Je passe au poste 1, je poinçonne avec mon doigt électronique, je passe ensuite au poste 3 que je poinçonne. Ayant oublié le poste 2, j'y retourne, je le poinçonne et je continue mon parcours en allant au poste 4
- Je passe au poste 1 que je poinçonne avec mon doigt électronique, je passe au poste 3 je poinçonne. Ayant oublié le poste 2, j'y retourne, je le poinçonne puis je repasse au poste 3, je le poinçonne et je continue mon parcours en allant au poste 4
- Je passe au poste 1, je poinçonne avec mon doigt électronique, je passe ensuite au poste 2 que je poinçonne. Je passe ensuite au poste 3 je le poinçonne. Je continue mon parcours et je me retrouve par erreur au poste 2 que je poinçonne. Je continue en allant directement à mon poste 4

12. Reporte les postes et les numéros figurant sur la carte sur la photo aérienne (2 points)



pts



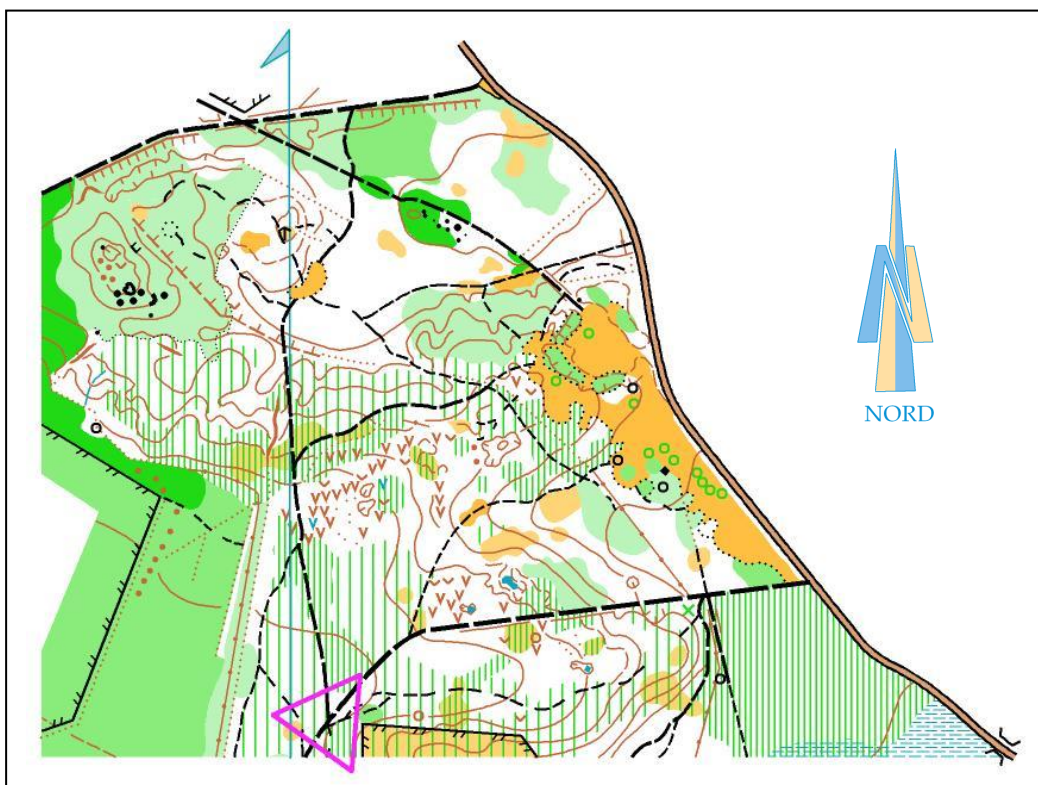
13. Sur ces deux cartes pratiquement identiques, trouve 6 erreurs, note les en les entourant sur la carte de droite. (1 points)



pts

14. **Dictée'O**. Essaie de trouver l'emplacement de 3 postes que recherche cet orienteur en lisant ce qu'il raconte. Quand tu trouves l'emplacement du poste entoure l'élément sur lequel se trouve la balise (2points)

« Je suis au triangle de départ. Au top départ je prends le chemin indiqué par la pointe du triangle. Arrivé à la jonction de chemins, je prends le chemin de gauche et je cours très vite vers la grande clairière située à l'Est de la carte. Arrivé dans la clairière, je me dirige vers le Nord en direction de la zone boisée. Dans cette zone boisée, je trouve le poste 1 sur un objet particulier. Je repars vers le Nord Ouest jusqu'au bout de la clairière et j'emprunte le chemin. Je passe une première intersection et je cours très rapidement jusqu'à la seconde intersection. Je tourne à gauche et je cours jusqu'au fossé que je suis jusqu'à la rencontre avec une limite de végétation où je trouve le poste 2 que je poinçonne. Je repars en logeant la limite de végétation jusqu'à la petite dépression où je trouve le poste 3 »



pts