

Balise Jaune



1. Sur une carte au 1/7500, 3 cm représente quelle distance?

2. Que représente le symbole suivant



3. Que signifie IOF?

4. Quelle est la différence entre une levée de terre et un abrupt de terre?

5. Qu'est ce qu'une charbonnière?

6. Sur une carte de CO, de quelle couleur peut être cette forme




7. Cite 2 symboles de couleur verte

8. Suis-je un coude de fossé ou de talus ?



9. Cite 3 symboles de couleur marron

10. Que représente le symbole suivant :

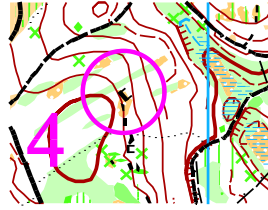


11. Traduire la définition du poste 2 suivant en définition codifiée IOF :

« Bâtiment côté sud »

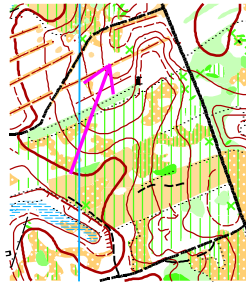
1	34		○			♀	
2	41						

12. Quelle est la définition du poste suivant :

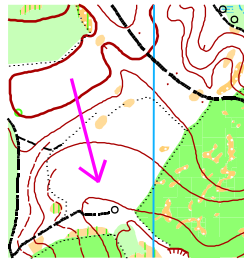


	34						
--	----	--	--	--	--	--	--

13. En observant la carte ci dessous, indiquer si la flèche indique une trajectoire montante ou descendante.



14. En observant la carte ci dessous, indiquer si la flèche indique une trajectoire montante ou descendante.



15. Que représente le symbole suivant :



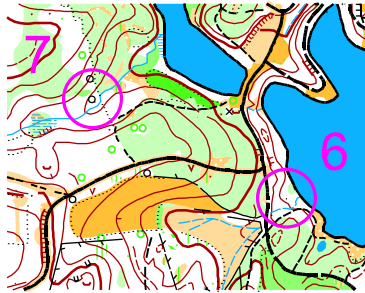
16. Une bouteille en plastique dans la nature ne se dégrade qu'au bout de :

- 6 mois à 2 ans
- 10 à 50 ans
- 150 à 500 ans

17. Comment s'appelle la gestion l'entretien et l'exploitation de la forêt

- L'agriculture
- La pisciculture
- La sylviculture

18. Sur la carte ci-dessous, indiquez votre point d'attaque (croix noire) pour aller du poste 6 à 7.



19. Quelle est la définition du poste suivant :



	34						
--	----	--	--	--	--	--	--

20. Sur la carte ci-dessous, indiquez votre itinéraire (en trait noir) et votre point d'attaque (croix noire) pour aller du poste 7 à 8.

