


Balise Verte



1. Comment est représenté le départ d'une course d'orientation sur la carte?
2. Arrivé dans la zone du poste, je ne le trouve pas, que puis je faire :
 - Je demande à tous les gens que je croise où elle se trouve
 - Je reviens au dernier point sûr, et je reviens dans la zone
3. Cite 3 des 6 couleurs représentant des symboles sur une carte :
4. De quelle couleur sont représentés les chemins?
5. Quel instrument peut nous permettre de dire où se trouve le Nord?
6. Un champignon comestible est :
 - Un champignon que l'on peut manger
 - Un champignon que l'on ne peut pas manger
7. Ai-je le droit de m'écarter d'un itinéraire balisé obligatoire ?
 - Oui
 - Non
8. Lorsqu'on tient une carte, le plus important est
 - de la plier
 - de l'orienter
 - de la mettre dans sa poche
9. Donner la définition de ce symbole :

	<ul style="list-style-type: none"><input type="checkbox"/> Clôture<input type="checkbox"/> Falaise franchissable
---	---
10. Lorsqu'on arrive à la balise, que doit-on faire systématiquement?
 - on s'arrête pour se reposer
 - on vérifie le code du poste
 - on la déplace

11. Une bouteille en plastique dans la nature ne se dégrade qu'au bout de

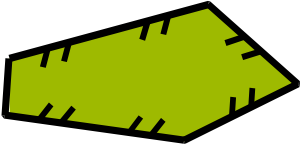
- 6 mois à 2 ans
- 10 à 50 ans
- 150 à 500 ans

12. Pour suivre son déplacement sur la carte, on peut s'aider:

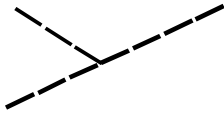
- d'un crayon
- d'un bâton
- de son pouce

13. Cite ou dessine 3 symboles de couleur noire

14. Peux tu traverser cette zone ?

	<ul style="list-style-type: none"><input type="checkbox"/> oui<input type="checkbox"/> non
---	---

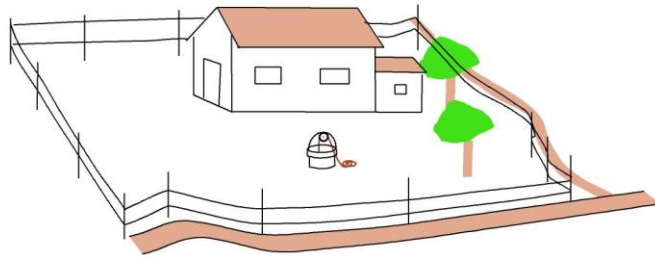
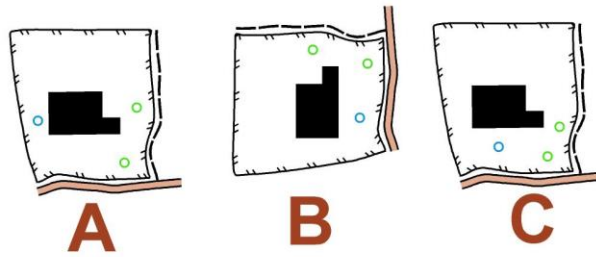
15. Donner la définition de ce symbole :

	<ul style="list-style-type: none"><input type="checkbox"/> jonction chemin<input type="checkbox"/> jonction rivière
---	--

16. Sur ces deux cartes pratiquement identiques, trouver 3 erreurs, les noter en les entourant d'un cercle sur la carte de droite



17. Quel plan correspond au paysage ? Indiquez votre réponse entourant la lettre correspondante



18. Sur la carte d'orientation, quelle est la couleur utilisée pour représenter la forêt la plus pénétrable

19. Indique quel est le meilleur itinéraire (en pointillé rose) pour aller du poste 2 au poste 3.

<input type="checkbox"/> Itinéraire A <input type="checkbox"/> Itinéraire B <input type="checkbox"/> Itinéraire C	
---	--

20. La définition du poste est ARBRE ISOLE, indiquer quel numéro de poste il s'agit :

<p>ARBRE ISOLE</p> <input type="checkbox"/> Poste 1 <input type="checkbox"/> Poste 2 <input type="checkbox"/> Poste 3	
---	--