



BALISE VERTE

Direction Technique Nationale

1. Relie par un trait le symbole et sa définition ? (1 point)



• . Départ

pts



• . Poste de controle



• . Arrivée

2. Avant le départ d'une course que dois-tu faire (tu dois cocher plusieurs cases): (1 point)

- Prendre tes définitions
- Discuter avec ton meilleur copain
- t'échauffer
- Effacer et contrôler ton doigt électronique
- Vérifier tes lacets de chaussures

pts

3. De quelle couleur est représenté un pré sur la carte ? (1 point)

pts

4. Le sud de la carte est-il situé : (1point)

- En haut de la carte ?
- A droite de la carte ?
- A gauche de la carte ?
- En bas de la carte ?

pts

5. La définition du poste est « ANGLE DE LA CLOTURE » Mettre une croix dans la ou les cases figurant sous la carte, correspondant à cette définition. (1 point)

1	2	3	4	5	6	7	8	9	10
---	---	---	---	---	---	---	---	---	----


pts

6. Lorsque vous courez, vous devez tenir votre carte : (1 point)

- dépliée
- orientée
- à l'envers

pts

7. Donne la définition de ce symbole : (1 point)

	<ul style="list-style-type: none"><input type="checkbox"/> Ligne électrique<input type="checkbox"/> Mur franchissable<input type="checkbox"/> Clôture franchissable
---	---









pts

8. Pour choisir le bon chemin que faut-il faire pour ne pas se tromper. Tu dois donner plusieurs réponses? (1 point)

- Orienter la carte avec la boussole
- Suivre les autres coureurs sans réfléchir
- Demander son chemin
- Orienter la carte en fonction des éléments du terrain

pts

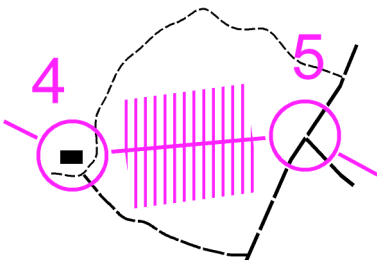
9. Relie par un trait le symbole à sa définition. (2 points)

- 
- 
- 
- 
- 
- 
- 
- 

- Chemin
- Etang - Mare
- Bâtiment
- Objet particulier
- Arbre isolé
- Butte
- Mangeoire
- Ligne électrique

pts


10. Peux-tu aller du poste 4 au poste 5 tout droit sans passer par les chemins? (1 point)

	<ul style="list-style-type: none"><input type="checkbox"/> Oui<input type="checkbox"/> non
---	---

pts

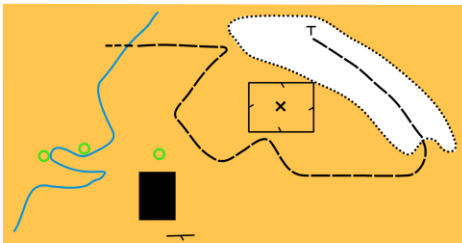
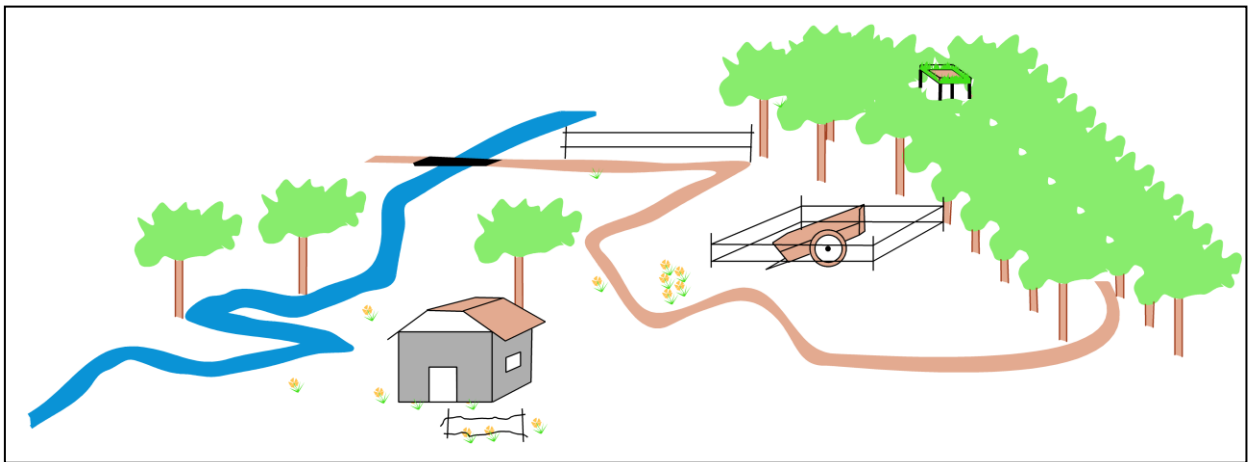
11. Sur ces deux cartes pratiquement identiques, trouver 3 erreurs, les noter en les entourant d'un cercle sur la carte de **gauche**. (1 point)

pts

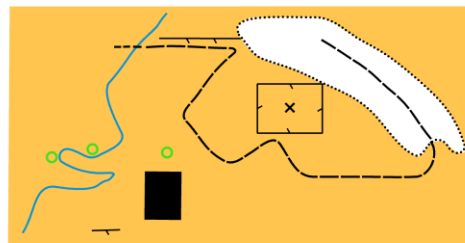


12. Quel plan correspond au paysage? Indiquez votre réponse en entourant la lettre correspondante. (1 point)

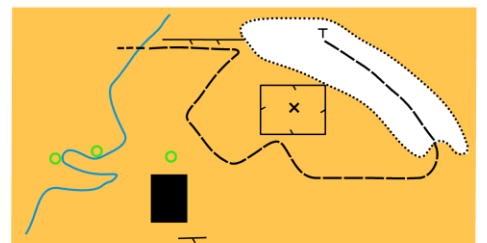
pts



A



B



C

13. Sur la carte d'orientation, quelle est la couleur utilisée pour représenter un rocher? (1 point)

pts

14. Indique quel est le meilleur itinéraire (en pointillé rose) pour aller du poste 7 au poste 8. Réfléchis bien...
(1 point)

Itinéraire A
 Itinéraire B
 Itinéraire C

pts

15. Quelle balise correspond à la définition? Reporte les lettres des balises dans les cases du tableau (2 points)

pts

Extrémité de la clôture	1
Jonction de sentiers	2
Côté de la Ruine	3
Angle de la clôture	4
Objet particulier	5
Arbre isolé	6
Mare	7

16. Certains éléments de la carte et donc du terrain peuvent ou non être traversés ou franchis. Relie par un trait les symboles que tu peux traverser et ceux que tu ne peux pas traverser : (1 point)

•••••	•				
	•				
•••••	•				
/ / / / /	•				

• Je peux passer

• Je ne peux pas passer

pts

17. **Dictée'O** . Essaie de trouver l'emplacement du poste que recherche cet orienteur en lisant ce qu'il raconte. Quand tu trouves l'emplacement du poste entoure l'élément sur lequel se trouve la balise (2points)

« Je suis au triangle de départ. Au top départ je prends le chemin qui va vers le nord. Arrivé à la jonction des chemins je tourne à gauche puis je continue en courant très vite jusqu'à la prochaine intersection de chemins. A cette intersection je tourne à droite puis je continue je passe une intersection puis je traverse le ruisseau par le pont et j'arrive à une nouvelle jonction de chemins je tourne à gauche et je trouve enfin la balise à côté d'une petite maison situé sur la droite du chemin »

