



2012

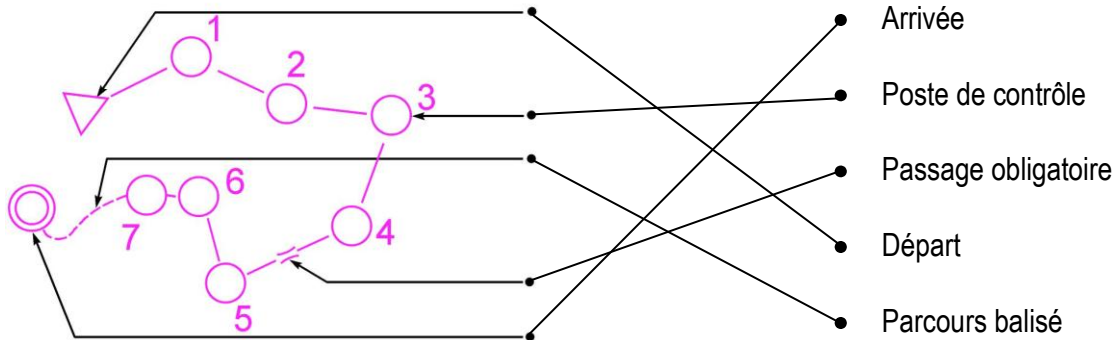
BALISE VERTE

Direction Technique Nationale

1. Relie le symbole à sa signification? (1,25 points)

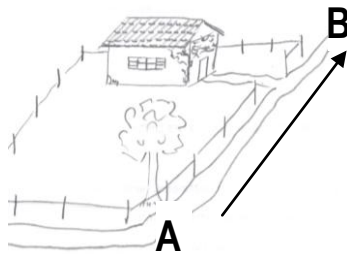
0,25 pts par réponse juste

pts

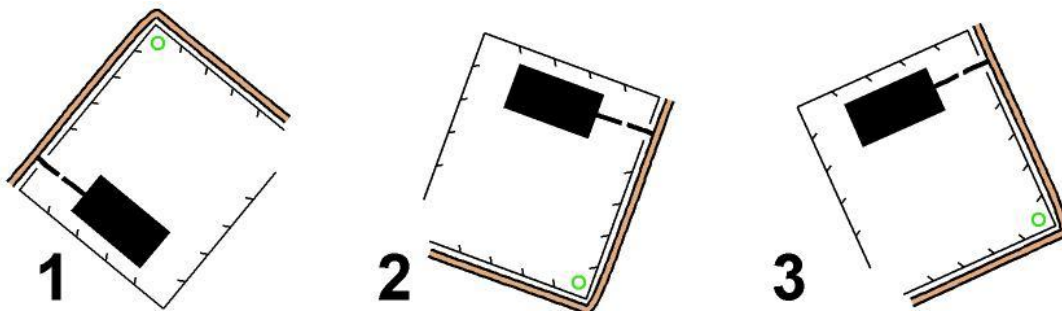


2. Tu dois savoir orienter ta carte. Tu es situé au point A et tu veux aller au point B. Comment dois-tu tenir ta carte dans ta main ? Entoure le plan bien orienté : (1 point)

pts



réponse : Plan 2



3. Cite 4 couleurs qui représentent les symboles sur la carte d'orientation : (1 point)

pts

les différentes couleurs sont : Bleu - Jaune - Noir - Marron - Vert - Blanc (0,25pts par réponse juste)

--	--	--	--

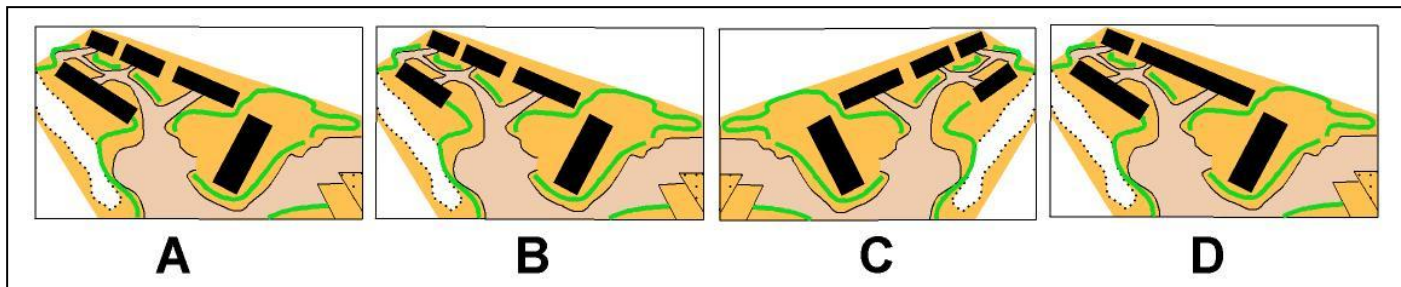
4. De quelle couleur est représentée une clôture sur la carte ? (1 point)

pts

NOIR

5. Quel plan correspond au paysage? Entoure la réponse juste : (1 point)

pts

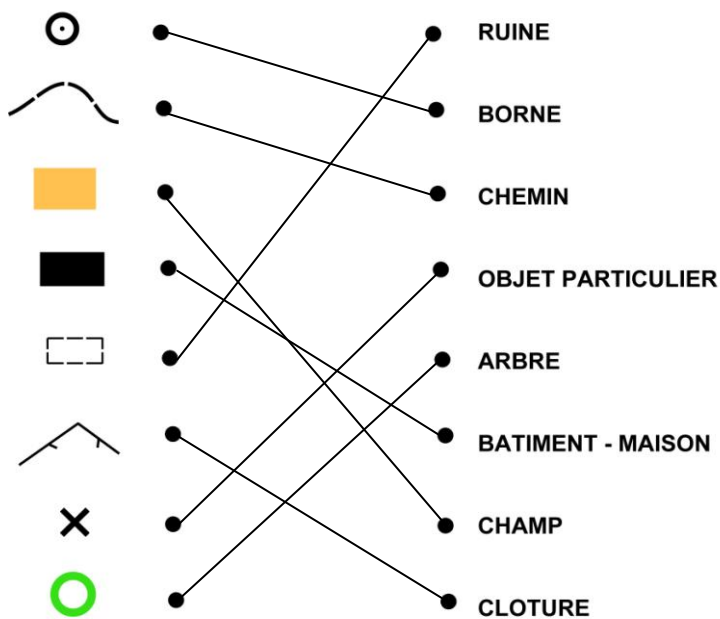


Réponse : PLAN B

6. Relie par un trait le symbole à sa définition (2 points)


0,25 pts par réponse juste

pts



7. Donne la définition de ce symbole : (1 point)

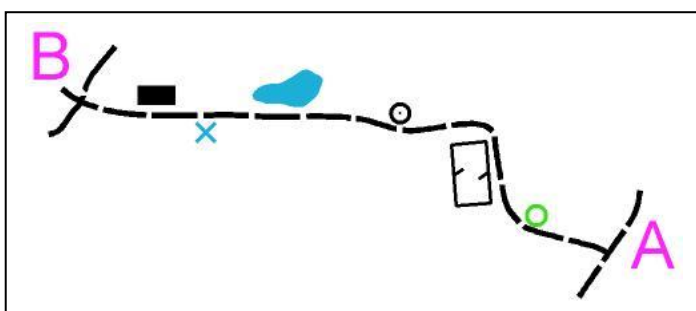
pts

	<input type="checkbox"/> Ruisseau <input type="checkbox"/> Chemin <input checked="" type="checkbox"/> Route
---	---

8. Pour aller de A vers B, en suivant le chemin, tu passes à côté de différents éléments situés à droite ou à gauche du chemin. Suivant que ces éléments se situent à gauche ou à droite du chemin, classe les dans la bonne colonne et donne leur signification (3 points)

0,5 pts par réponse juste

pts



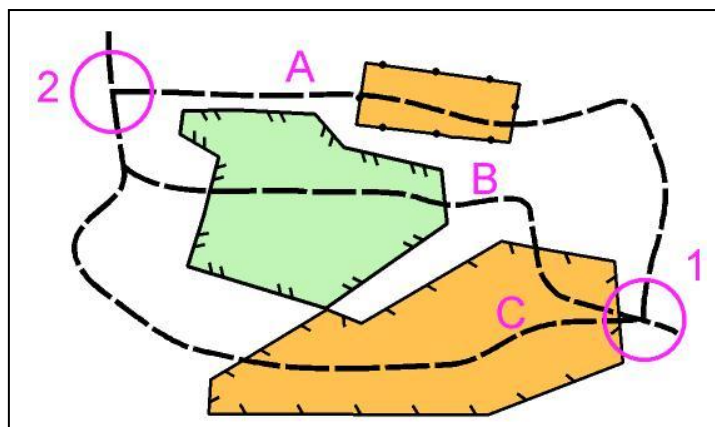
DEFINITIONS ELEMENTS A GAUCHE DU CHEMIN	DEFINITIONS ELEMENTS A DROITE DU CHEMIN
Clôture Point d'eau ou particularité de l'hydrographie	Arbre isolé Borne Etang, lac, mare Bâtiment, maison

9. Entoure la (ou les) lettre du chemin par lequel tu peux passer pour aller du poste 1 au poste 2. (1 point)

bonne réponse : Chemin A et Chemin C

0,5 pts par réponse juste

pts



10. Sur la carte d'orientation, quelle est la couleur utilisée pour représenter un étang, une mare? (1 point)

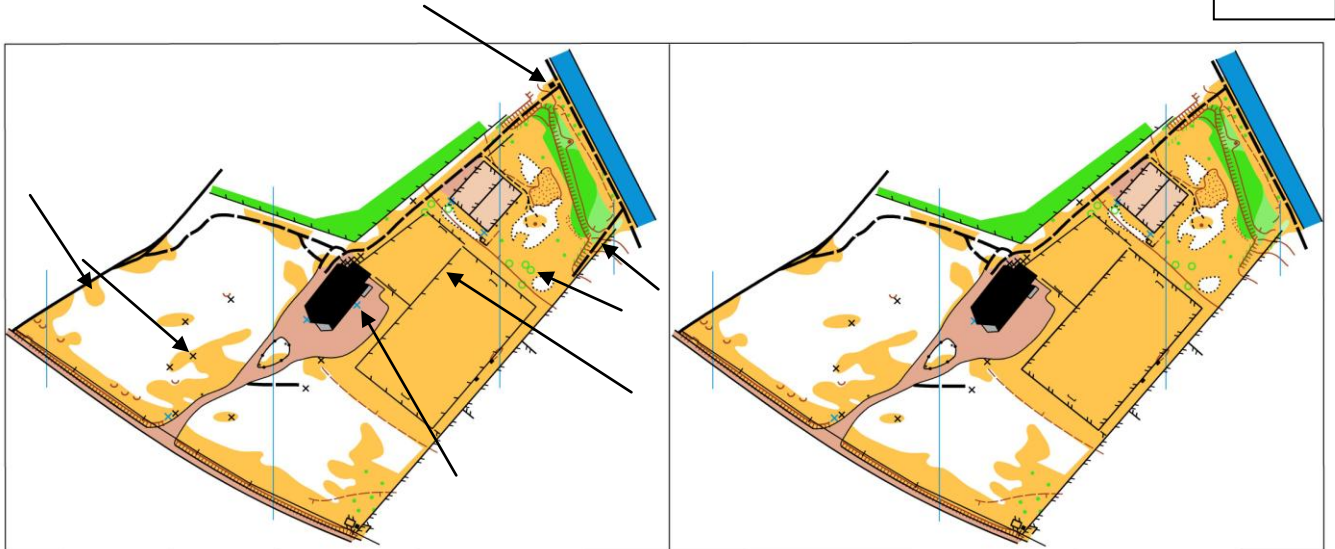
BLEU

pts

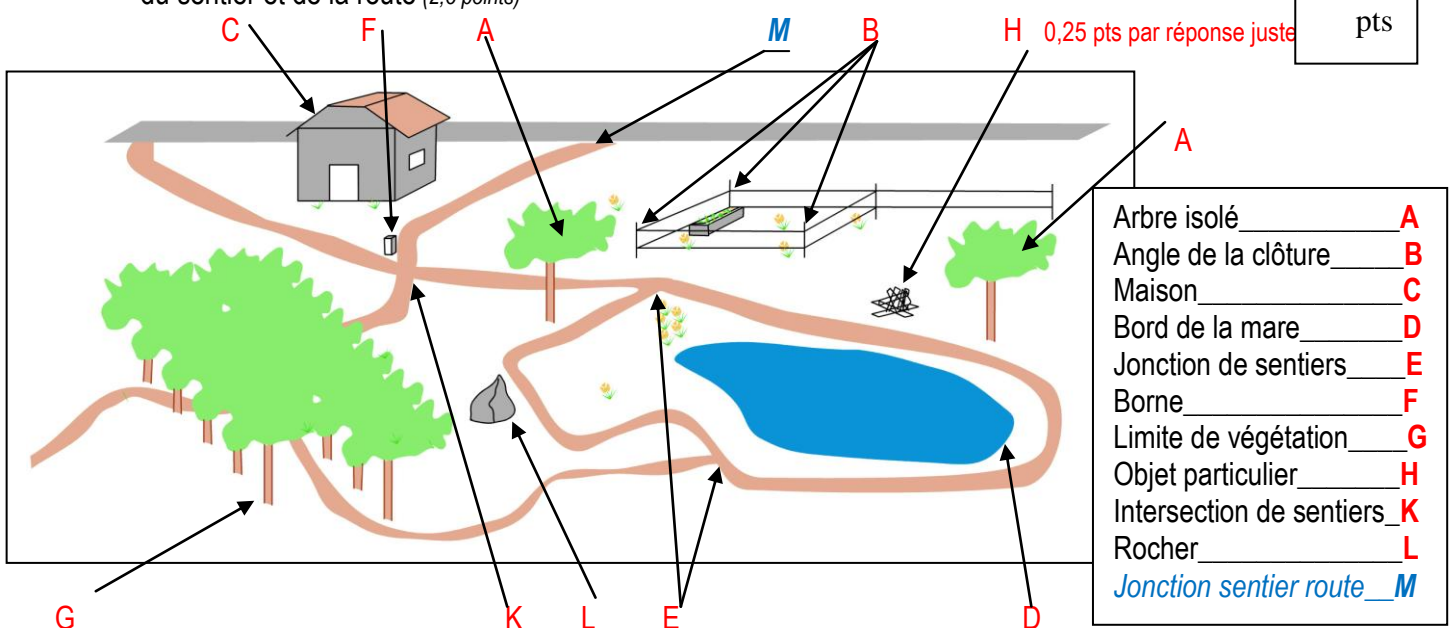
11. Sur ces deux cartes pratiquement identiques, trouver au moins 5 erreurs. Les noter en les entourant d'un cercle sur la carte de **gauche**. (1 point)

0,5 pts si 3 réponses justes en dessous de 3 = 0 pt

pts



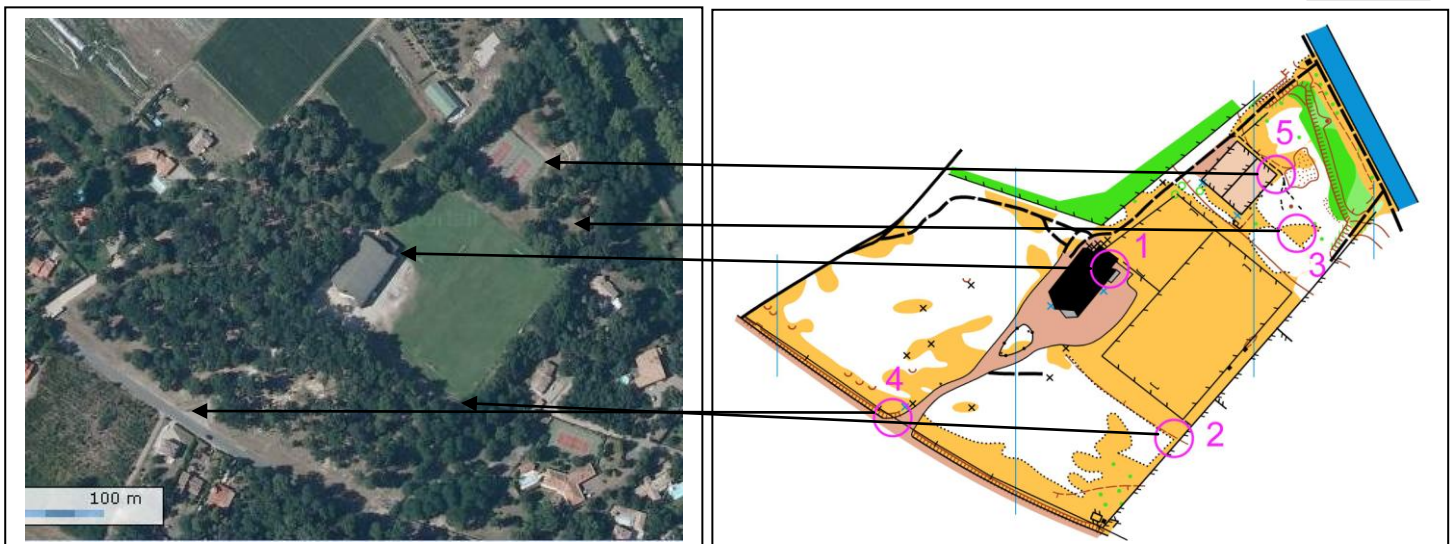
12. Trouve sur le paysage, les emplacements des balises correspondant aux définitions qui figurent dans le tableau et indique chaque emplacement avec une flèche comme le modèle de la flèche M pour la jonction du sentier et de la route (2,5 points)



13. Reporte sur la photo aérienne les balises qui figurent sur la carte : (1,25 points)

0,25 pts par réponse juste

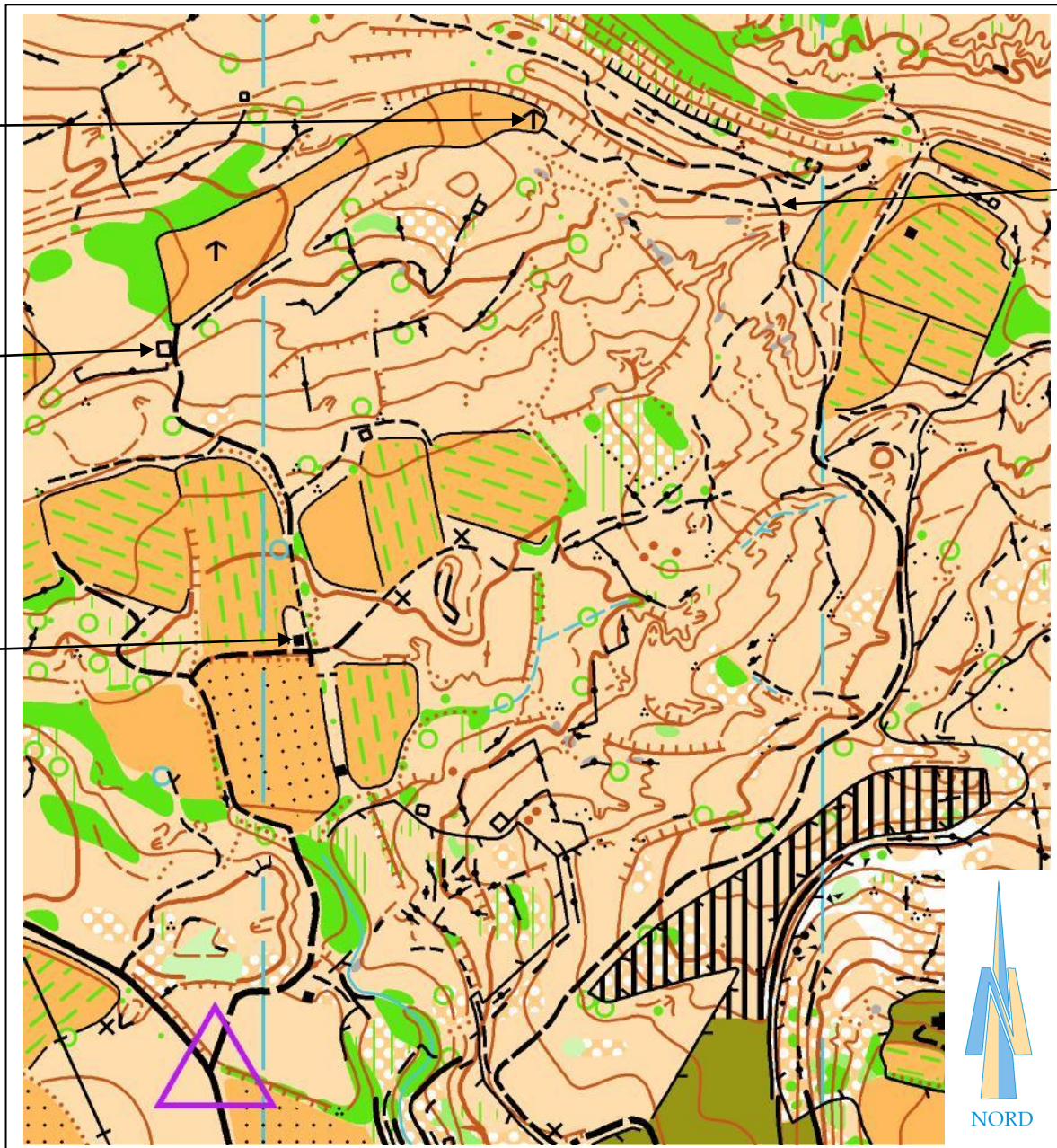
pts



14. **Dictée'O** : Essaie de trouver l'emplacement de 4 balises que recherche cet orienteur en lisant ce qu'il raconte. Quand tu trouves l'emplacement du poste entoure l'élément sur lequel se trouve la balise et marque son numéro. Je te conseille d'orienter la carte comme ci tu la lisais en course (2 points)

« Je suis au triangle de départ. Au top départ, je prends le chemin situé à ma droite et je le suis jusqu'au champ cultivé que je contourne à gauche par le chemin. A la jonction de sentiers, je prends le chemin de droite jusqu'à la maison où je trouve la 1^{ère} balise. Je prends ensuite le chemin vers le nord. A la première jonction, je continue tout droit ainsi qu'à la seconde jonction. J'arrive à une petite ruine située sur la gauche du chemin où je trouve la 2^{ème} balise. Je repars en prenant le chemin qui me mène immédiatement à un champ au Nord. Je longe le champ en suivant la limite de végétation à droite jusqu'à ce que j'atteigne le bout du champ où je trouve 3^{ème} balise sur une mangeoire. Je repars, ensuite, sur le chemin situé juste au bout du champ et je le suis jusqu'à la prochaine jonction de chemins où je trouve la 4^{ème} balise »

0,25 pts par balise bien située



pts

Balise 3

Balise 2

Balise 1

Balise 4